

أهداف الدرس

2. تذكر شروط
زكاة نتاج
الأرض

1. تعرف
زكاة نتاج
الأرض

3. توضح
بالأمثلة مقدار
زكاة نتاج الأرض

4. تعرف
معنى زكاة
النقدين
وشروط
اخراجها


5. تبيّن معنى
زكاة عروض
التجارة وقيمة
الزكاة فيها

سلطنة عمان

وزارة التربية والتعليم
مدرسة علي بن ابي طالب

زكاة نتاج
الأرض والنقدين
وعروض التجارة

التمهيد للدرس



2. ما لحكمه من
مشروعية الزكاة
؟

1. ما معنى
الزكاة؟

4. بين شروط
اخراج زكاة
الأنعام

3. اذكر أنواع
الأنعام التي تخرج
زكاتها

6. رجل يملك 570
شاة سائمة معظم
أيام السنة فكم تبلغ
زكاته؟

5. كم يبلغ
نصاب كل من
الابل والبقر

نتاج الأرض هو كل ما تخرجه الأرض من الثمار
والحبوب مما يأكله الناس ويدخرونه

يَا أَيُّهَا الَّذِينَ آمَنُوا أَنْفِقُوا مِنْ طَيِّبَاتِ مَا كَسَبْتُمْ
(وَمِمَّا أَخْرَجْنَا لَكُمْ مِنَ الْأَرْضِ)



زبيب




شعير



ذرة



قمح أو بر



زكاة نتاج الأرض



أن يبلغ النصاب 1.

لقول رسول الله - صلى الله عليه وسلم - (ليس فيما دون خمسة أوسق صدقة)

وهي تساوي : ثلاثمائة صاع بالكيل والصاع = (كيلو غرامين وربع من الأرز)

ما يقارب 675 كغم من الأرز

أن يكون مما يقتات ويدخر 2.

أي مما يكون طعاما للإنسان ويمكن أن يحفظ زمنا طويلا
لا يفسد ويزكى نتاج الأرض **عند الحصاد**

(وَأَتُوا حَقَّهُ يَوْمَ حَصَادِهِ)

شروط اخراج
الزكاة في الأصناف
التمر - الزبيب)
الشعير - البُر -
الذرة -



مقدار زكاة نتاج الأرض

إذا كان يسقى بدون تكلفة ، كأن يسقى بمياه الامطار والعيون 1. الجارية ، أو كان مما لا يحتاج إلى سقي فمقدار زكاته

العشر (1) أي 10% من الناتج

10

إذا كان يسقى بتكلفة كأن يسقى بالآلات فمقدار زكاته 2.

نصف العشر (1) أي 5% من الناتج

20

سقى بدون تكلفة



سقى بتكلفة



مثال توضيحي :

رجل حصد التمر الذي في مزرعته وكان يسقيه بالآلات فكان وزن التمر 800 كغم فما مقدار الزكاة الواجبة عليه

$$\text{الزكاة : } \frac{5 \times 800}{100} = 40 \text{ كغم}$$

النشاط البنائي

مزرعتان للقمح تسقى احدهما بالآلات الحديثة ، وتسقى الأخرى بمياه الأمطار وكان المحصول النهائي لكل واحدة من المزرعتين 1000 كغم ، قارن بين زكاة كل منهما واستنتج الحكمة في التفاوت بين زكاة ما سقى بتكلفة وما سقى بغير تكلفة

ما سقى بمياه الأمطار:

$$\frac{1000 \times 10}{100} = 100 \text{ كغم}$$

ما سقى بالآلات :

$$\frac{1000 \times 5}{100} = 50 \text{ كغم}$$

النقدان هما الذهب والفضة وسميا بذلك لكونهما ينقدان أي يعطيان في المبادلة بين البائع والمشتري

وَالَّذِينَ يَكْنِزُونَ الذَّهَبَ
وَالْفِضَّةَ وَلَا يَنْفِقُونَهَا
فِي سَبِيلِ اللَّهِ فَبَشِّرْهُمْ
بِعَذَابٍ أَلِيمٍ

ومعنى كنز
الذهب والفضة
يعني عدم اخراج
زكاتها

وكان دينار الذهب
ودرهم الفضة
عملتين متداولتين
في الدولة
الإسلامية



زكاة النقدين
الذهب والفضة)
والعملات الحديثة
)



علل / تقوم العملات الحديثة مقام الذهب والفضة ؟

لأن البيع والشراء لم يعد بدينار الذهب ولا بدرهم الفضة بل أصبح بعملات أخرى % حديثة ومقدار الزكاة فيها 2.5

: ما شروط وجوب الزكاة في النقدين

غراما أو 85 595
غراما من الفضة

الذهب

أن يبلغ النصاب 1.

غرام 595

الفضة

مثلا : قيمة الغرام الواحد من الذهب مثلا في الوقت الحاضر يقارب أربعة ريالات عمانية فإن النصاب يساوي $340 = 4 \times 85$ ريالاً عمانياً علماً بأن قيمة الذهب متغيرة وليست ثابتة

أن يمر عليها حول هجري منذ امتلاكها 2.

أمثلة توضيحية

1. امرأة عندها ذهب وزنه 600 غرام وحال عليه حول هجري فهل
تجب عليها الزكاة؟ وما مقدار ذلك؟

1. عليها الزكاة لأن الذهب بلغ النصاب

2. مقدار الزكاة: $2.5 \times 600 = 1500$ غرام وبالريال العماني يضرب في قيمة الغرام (القيمة)

2. رجل عنده 1000 ريال عماني فهل تجب عليه الزكاة؟ وما مقدار ذلك؟

1. الزكاة واجبة عليه بسبب أن المبلغ الذي عنده يزيد عن قيمة 85 غرام من الذهب

2. مقدار الزكاة: $2.5 \times 1000 = 2500$ ريال عماني



زكاة عروض التجارة

هي كل ما يعرض للبيع وزكاتها كزكاة الذهب فتجب فيها الزكاة إذا بلغت قيمتها 85 غراما من الذهب ويقوم التاجر عند تمام السنة الهجرية بحساب ما عنده من البضاعة % ويخرج منها 2.5



جدول يبين خلاصة زكاة نتاج الأرض والنقدين والأوراق النقدية وعروض التجارة

| الصف | وقت الزكاة | النصاب | مقدار الزكاة |
|-------------------------------|------------|------------------------|--------------|
| نتاج الأرض (سقي بماء المطر) | عند الحصاد | صاع 300 | 10% |
| نتاج الأرض (سقي بالآلات) | عند الحصاد | صاع 300 | 5% |
| الذهب | تمام الحول | غرام 85 | 2.5 % |
| الفضة | تمام الحول | غرام 595 | 2.5 % |
| الأوراق النقدية | تمام الحول | قيمة 85 جراما من الذهب | 2.5 % |
| عروض التجارة | تمام الحول | قيمة 85 جراما من الذهب | 2.5 % |



: الأنشطة الختامية

: بين مقدار الزكاة فيما يلي

1. جرام ذهب 100

$$\frac{100 \times 2.5}{100} = 2.5 \text{ غرام}$$

2. جرام فضة 400

لا تجب الزكاة لأنه لم يبلغ النصاب

3. ريال عماني 1500

$$\frac{1500 \times 2.5}{100} = 37,5 \text{ ريال}$$


4. كغم أرز سقي بالآلات 700

$$\frac{700 \times 5}{100} = 35 \text{ جرام}$$

5. محل تجاري فيه قيمة

$$\frac{2000 \times 2.5}{100} = 50 \text{ ريال}$$

2000 ريال عماني



Thank You!

